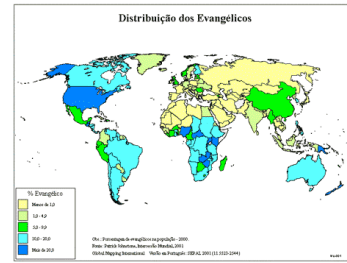


# MAPAS DIVERSOS SOBRE O MUNDO

## Mapa – Distribuição dos Evangélicos

O mapa mostra os países que possuem as porcentagens de evangélicos em suas populações nacionais. Por evangélicos entende-se aqueles que crêem e enfatizam: 1) o Senhor Jesus Cristo como única fonte de salvação, mediante a fé nEle; 2) fé e conversão pessoal com regeneração pelo Espírito Santo; 3) reconhecimento da Palavra inspirada de Deus como a única base para a fé e a vida cristã; 4) comprometimento com a pregação e evangelização bíblicas que tragam outros para a fé em Cristo.



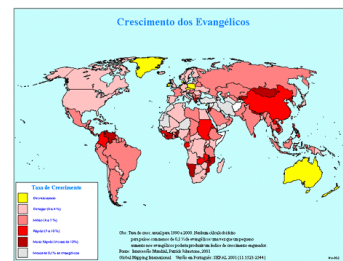
Os países coloridos com azul escuro representam os que apresentam maiores porcentagens de evangélicos (Estados Unidos, Chile, Guatemala, Coreia do Sul, Papua Nova Guiné, Quênia, Uganda, Rep. Dem. Do Congo (antigo Zaire) e República Centro-Africana).

Os em amarelo além de apresentarem menor (ou inexistente) porcentagem de evangélicos em sua população, também contém proporcionalmente menos evangélicos (a proporção população/evangélicos).

## Mapa – Crescimento dos Evangélicos

Esse mapa representa o aumento dos evangélicos baseado na taxa de crescimento entre 1995 a 2000.

Salientamos que nos países em amarelo houve um decréscimo, isto é diminuiu o número de evangélicos, e os com menos de 0,1%, representados em cinza, se encontram praticamente concentrados na região onde se encontra a Janela 10-40.



## Mapa – Religiões do Mundo

Um terço do mundo se denomina cristão. Aqueles que se consideram evangélicos são 11% da população mundial e o restante (22%) são católicos romanos, ortodoxos e outras religiões ditas cristãs (incluindo mormonismo, testemunhas de Jeová e outras seitas).



A segunda maior religião do mundo, é o islamismo que tem crescido muito ultimamente. De cada 5 pessoas no mundo, uma é muçulmana. O Deus dos muçulmanos é Alá, o profeta é Maomé, o livro santo é o Alcorão e a cidade santa é Meca.

Os hindus (13% da população) se encontram principalmente na Índia e adoram milhares de deuses.

Os budistas (seguidores do Gaultama Buda) se concentram principalmente na Tailândia, Camboja, Vietnã e Japão, e são 6% do total da população do mundo.

Os animistas são aqueles que seguem as crenças indígenas ou tribais. Acreditam na existência de um mundo sobrenatural e em sua interação com o mundo natural. A

pajelança existe principalmente para fazer a mediação entre um mundo e outro. Acreditam também que tudo tem vida, as árvores, as pedras, as águas, etc.

No caso da China, apesar de possuir uma igreja evangélica em crescimento, a maior parte de sua população se diz sem religião.

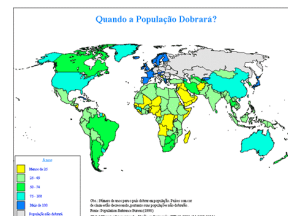
Ressaltamos que esses dados se baseiam na porcentagem predominante da população de cada país.

### Mapa – Quando a população dobrará?

Cada país está com uma cor que determina quantos anos levará para que sua população dobre em número.

O crescimento da população é maior nos países coloridos em amarelo.

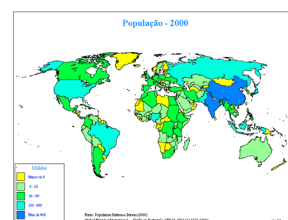
Em qual continente encontramos o maior número que países que mais crescem? (o continente africano)



### Mapa – População AD 2000

Este mapa mostra a população total em cada país (não o crescimento da população).

Observe que os países com maior número de pessoas não são necessariamente os que apresentam as maiores taxas de crescimento. Por exemplo, a China será um dos dois mais populosos países do mundo no ano 2000, só que sua taxa de crescimento é menor do que muitos outros países. A Índia apresenta a mesma situação.

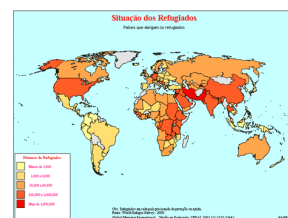


### Mapa – Os Refugiados (Onde moram hoje?)

Refugiados são aquelas pessoas que por algum motivo foram obrigadas a fugir de seu país por perigos políticos, catastróficos relacionado à natureza (terremotos, enchentes, nevascas, etc), e guerras.

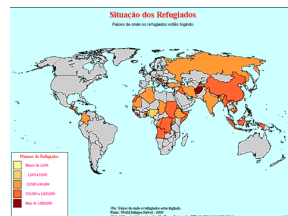
Um dado importante é que quase todas as guerras de hoje, são guerras travadas entre grupos de um mesmo país, e não entre países.

O mapa mostra onde estão os refugiados, mas não define de onde eles vieram.



### Mapa – Situação dos Refugiados (De onde fugiram?)

Mas de onde fugiram todos estes refugiados? Este mapa responde essa pergunta. Dá para você identificar os países que mais produziram refugiados?



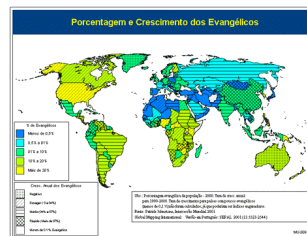
### Mapa – Porcentagem e Crescimento dos Evangélicos

Este mapa sobrepõe duas informações. A porcentagem de evangélicos presente em cada país e o seu crescimento baseado em dados de 1995 a 2000.

Os países coloridos em amarelo já possuem um bom índice de evangélicos em sua população.

Os países quadriculados possuem a maior taxa de crescimento de evangélicos, isto é, que crescem com maior rapidez.

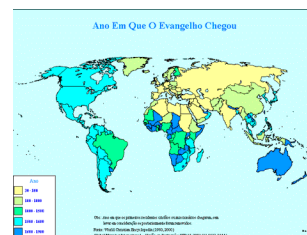
Com isso em vista, existe apenas um país que congrega um alto índice de evangélicos e uma alta taxa de crescimento (amarelo e quadriculado). Qual seria? (Zâmbia)



### Mapa – Ano em que o Evangelho chegou

Esse mapa mostra os países com os primeiros cristãos residentes e quando receberam os primeiros missionários.

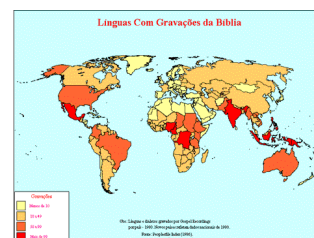
Um dado relevante a ser verificado é que uma grande parte deles são justamente os que apresentam o menor número de evangélicos hoje.



### Mapa – Línguas com gravações da Bíblia

Sabe-se que a Bíblia ainda não foi traduzida para grande parte das línguas faladas no mundo, e sabe-se também que há um alto grau de analfabetismo mundial. Essas deficiências são parcialmente supridas com gravações em áudio.

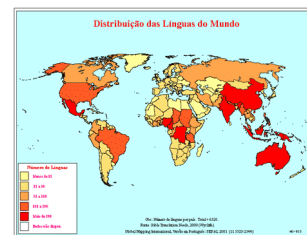
Observamos nesse mapa onde as gravações da Bíblia estão mais ou menos disponíveis.



### Mapa – Distribuição das línguas no mundo

Sabemos que existem mais de 6.800 línguas faladas no mundo.

O Brasil é um país onde há um grande número de línguas. Mas alguns outros países possuem ainda mais: México, Rep Dem do Congo (Zaire), Nigéria, Índia, Indonésia, Papua Nova Guiné.

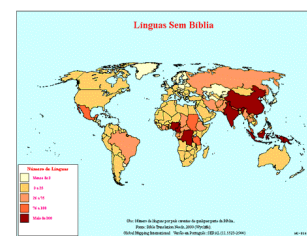


### Mapa – Línguas sem Bíblia

Complementando o mapa anterior, vemos que muitas das línguas atualmente faladas no mundo não possuem muitas vezes nenhuma parte da Bíblia traduzida para seu idioma.

Na América Latina o México é o país que possui mais línguas sem Bíblia. Mas o Brasil possui também mais de 70 línguas (indígenas) sem escrituras.

Outros países na mesma situação: Nigéria, Camarões, Rep Dem do Congo (Zaire), Índia, China, Indonésia, e Papua Nova Guiné.



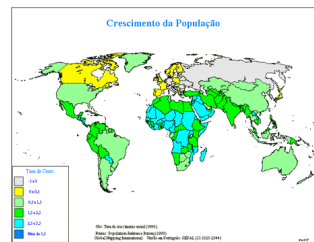
### Mapa – Crescimento da População

Este mapa revela qual a taxa de crescimento populacional dos países.

Acima da Janela 10-40, estão os países que tem a menor taxa de crescimento populacional, a Europa.

E a África é o continente que apresenta a maior taxa de crescimento anual.

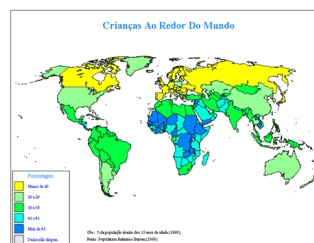
Fora o continente africano, quais os dois países que mais crescem populacionalmente? (Iraque – apesar das guerras, e Síria).



### Mapa – Crianças ao Redor do Mundo

O Brasil já foi considerado um país jovem, do futuro! Agora percebemos que os países da África e do Oriente Médio apresentam o maior número de crianças em sua população.

Lembramos que os países do Oriente Médio não são os que mais crescem populacionalmente, o que podemos deduzir que sua população adulta está se disseminando, muitas vezes por causa das guerras e doenças.

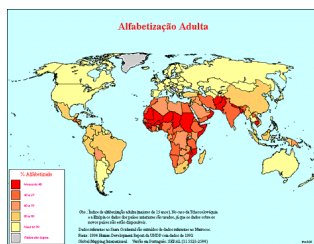


### Mapa – Alfabetização Adulta

Destaca-se que no continente africano, um único país apresenta uma taxa de alfabetização razoável (África do Sul), enquanto que todos os outros possuem de 40% a 60% de analfabetos em sua população adulta.

Qual o país da América do Sul com menor taxa de alfabetização adulta? (Bolívia)

E os de maior taxa na América Latina? (Guiana, Suriname, Paraguai, Uruguai, Argentina e Chile).



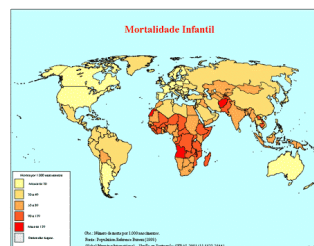
### Mapa – Mortalidade Infantil

A Bolívia está entre os países cuja taxa de mortalidade infantil varia de 50 a 89% (uma taxa alta...)

Os continentes em que a mortalidade infantil se encontra em baixos índices são Europa, Austrália e América do Norte.

Na Ásia há dois países que se destacam pelos baixos índices de mortalidade infantil: Coreia do Sul e Japão.

Na América do Sul temos o Chile que se destaca com a menor taxa de mortalidade entre as crianças (número de mortos por 1000 nascimentos).



### Mapa – Missionários de cada país



